

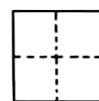

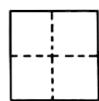
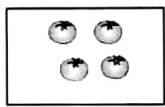
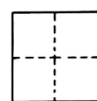
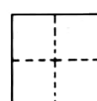

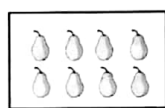
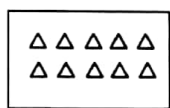


题号	一	二	三	四	五	六	七	八	总分
得分									



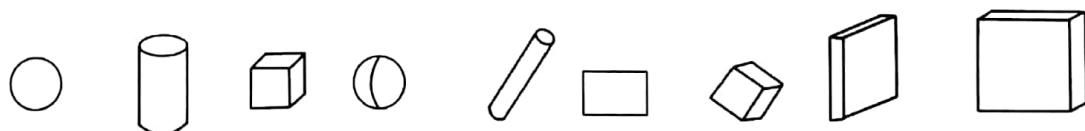
kàn tú xiě shù

## 一、看图写数。(8分)



kàn tú tián kòng

## 二、看图填空。(10分)



1. 长方体有( )个, 正方体有( )个, 圆柱有( )个, 球有( )个。

2. 从左边数起, 第( )个和第( )个是正方体。

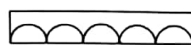
3. 从右边数起, 圆柱分别在第( )个和第( )个。

4. 把从右数起的第4个图形涂上颜色。



### 三、选一选，画一画。(10分)

1. 在长的 ☐ 里面画“√”，短的画“○”。(5分)


☐

☐

☐

☐

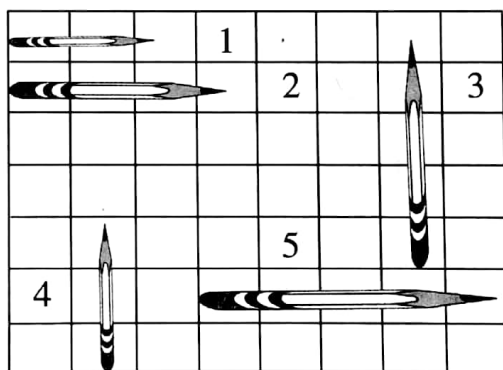
2. 在轻的 ☐ 里面画“√”，重的画“○”。(5分)


☐

☐

bǎ xiàmiàn de bǐ àn cóng cháng dào duǎn de shùn xù pái yì pái

### 四、把下面的笔按从长到短的顺序排一排。(5分)



☐ 号 → ☐ 号 → ☐ 号 → ☐ 号 → ☐ 号

diǎn liàng zhì huì dēng

### 五、点亮智慧灯。(9分)

$$2 + \text{lightbulb} = 5$$

$$7 + \text{lightbulb} = 8$$

$$9 + \text{lightbulb} = 9$$

$$4 + \text{lightbulb} = 7$$

$$1 + \text{lightbulb} = 6$$

$$5 + \text{lightbulb} = 9$$

$$4 + \text{lightbulb} = 10$$

$$3 + \text{lightbulb} = 8$$

$$8 + \text{lightbulb} = 10$$



六、在○里填上“>”、“<”或“=”。(9分)

$2+7 \bigcirc 7$

$4+5 \bigcirc 10$

$4 \bigcirc 9-3$

$8-2 \bigcirc 6$

$10-4 \bigcirc 7$

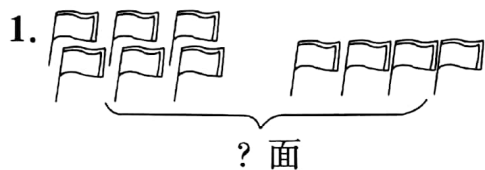
$10 \bigcirc 8+1$

$5+3 \bigcirc 7$

$9+1 \bigcirc 10$

$6+3 \bigcirc 8+2$


七、看图列式计算。(16分)



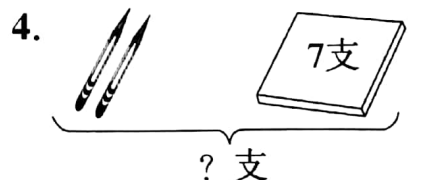
$\square \bigcirc \square = \square (\text{面})$



$\square \bigcirc \square = \square (\text{个})$



$\square \bigcirc \square = \square (\text{条})$



$\square \bigcirc \square = \square (\text{支})$




八、解决问题。(33分)

1. 哥哥有6元零用钱,弟弟有3元零用钱,他们一起捐给了玉树灾区的小朋友,他们一共捐了多少钱?(8分)



2. (8 分)



放走了5个，  
还有多少个？

3. 小花猫背了 10 只小老鼠，高高兴兴往家里跑，路上，口袋被小老鼠咬破了，回到家中，一只都没有了，跑掉了多少只小老鼠？(8 分)

4. 假如给你 10 元钱，你可以买下面哪些东西呢？你打算怎么买？请把你的想法用算式表示出来！(9 分)



5元



2元



4元



1元



3元

